

請根據錄像特輯的內容回答下列問題。

第一節：引言及開埠前的香港

1.



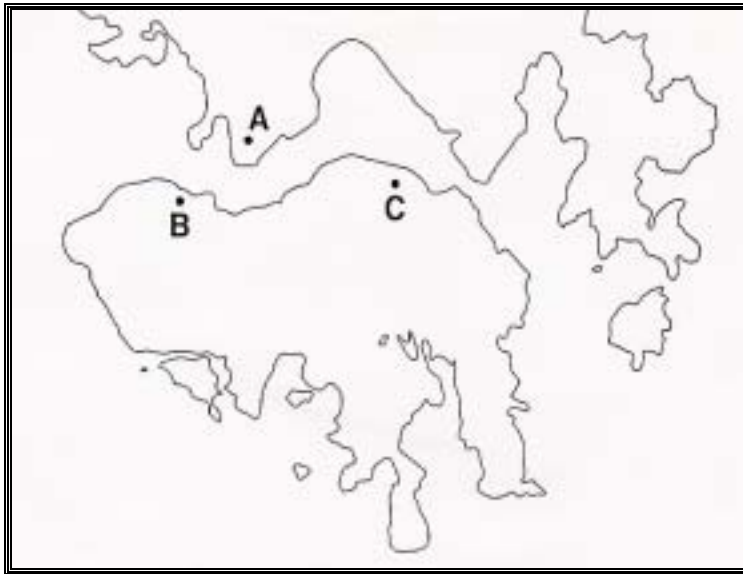
每年的 7 月 1 日，香港市民享有一天 _____，
這是為了紀念在 1997 年的 7 月 1 日，_____ 恢復對香港行使主權。

2. 請在正確的項目加上“✓”號，不正確的則加上“×”號。

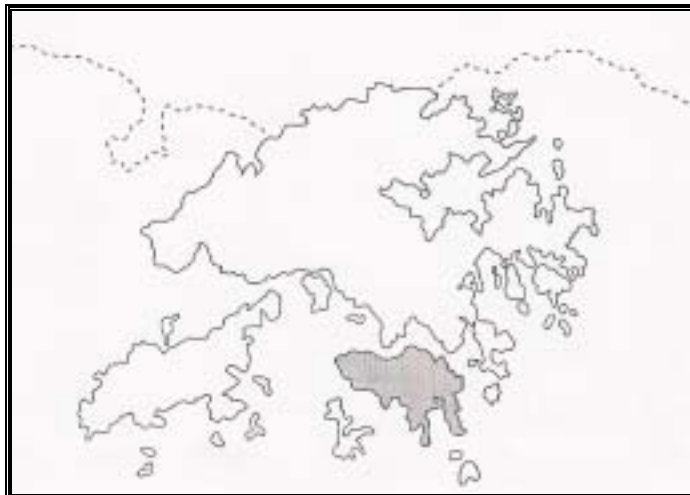
- A. 香港從古到今都是中國的領土。
- B. 在英國人割佔香港島前，香港是一條荒涼的漁村。
- C. 北宋至元末明初時期，有多個大姓族從內地遷來香港。
- D. 開埠前，香港居民一直以農耕及捕魚為業。

第二節：割讓香港島

- 鴉片對中國的國計、民生有很大的禍害，但部分英商仍以_____的形式輸入鴉片，逼使清政府決定全面禁煙。
- 參閱下圖，「林維喜事件」的發生地點是：



- 下圖陰影部分是根據哪一不平等條約割讓予英國的？



6. 鴉片戰爭尚未結束，英軍已經在香港島登陸（1841 年）。當時登陸的位置是在今天哪一條街道？

A.



B.



C.



第三節：香港島的防務

7. 西營盤的命名，與下列哪一項的性質相關？（答案不限一項）

- A. 英國為了英商與中國貿易而建設的經營地盤。
 B. 英國為了防衛香港島而設立的軍營地盤。

8. 今天在中環的紅棉路婚姻註冊處，她的前身曾經是：（答案不限一項）

- A. 軍營
 B. 文物館
 C. 英軍官邸

第四節：兩城對峙

9. 下圖所示的建築物，它的建設目的是為了：

- A. 顯示主權
- B. 抗衡英治下的維多利亞城
- C. 作為官邸



第五節：前港督的官邸

10. 下列三圖，哪些曾是英治時候港督的官邸？（答案不限一項）



B. 合和中心



A. 香港特區終審法院



C. 前港督府

第六節：華人生活剪影

11. 節目內容提及香港島在英國管治時期，港、九兩地華人的生活並無很大的分別，不少建築物的興建更反映了兩地華人同樣尊重傳統中國文化。試為下列四項建築物及其特色作適當的配對。

文武廟

重視教育

廣福義祠

重視死葬

龍津義學

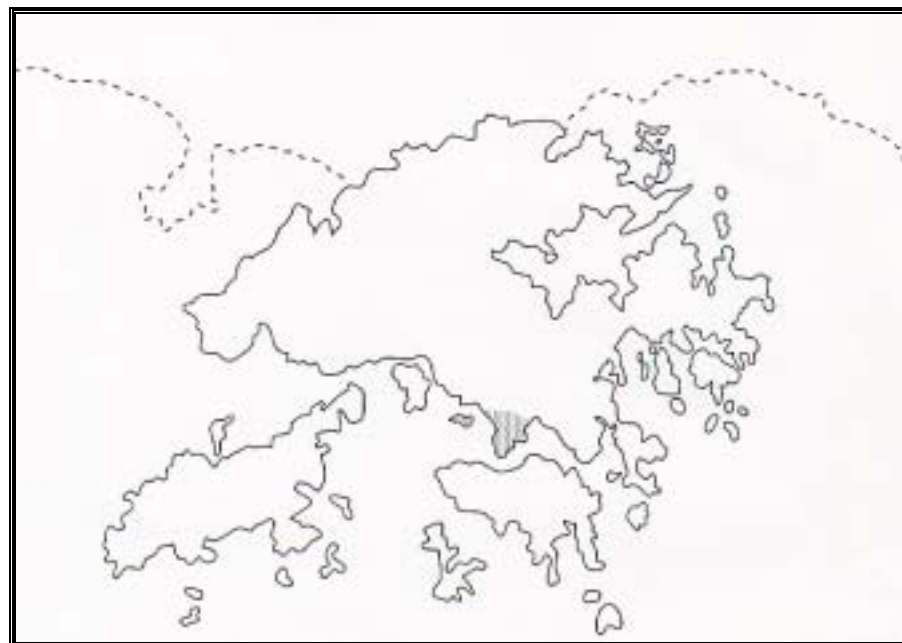
敬頌先師

魯班廟


敬奉神祇

第七節：割讓九龍半島

12. 下圖陰影部分是根據哪一不平等條約割讓予英國的？



13. 下圖為當時清政府割讓九龍半島予英國時中英雙方的邊界，今天已是一條街道。請在路牌處填寫街道的名稱。

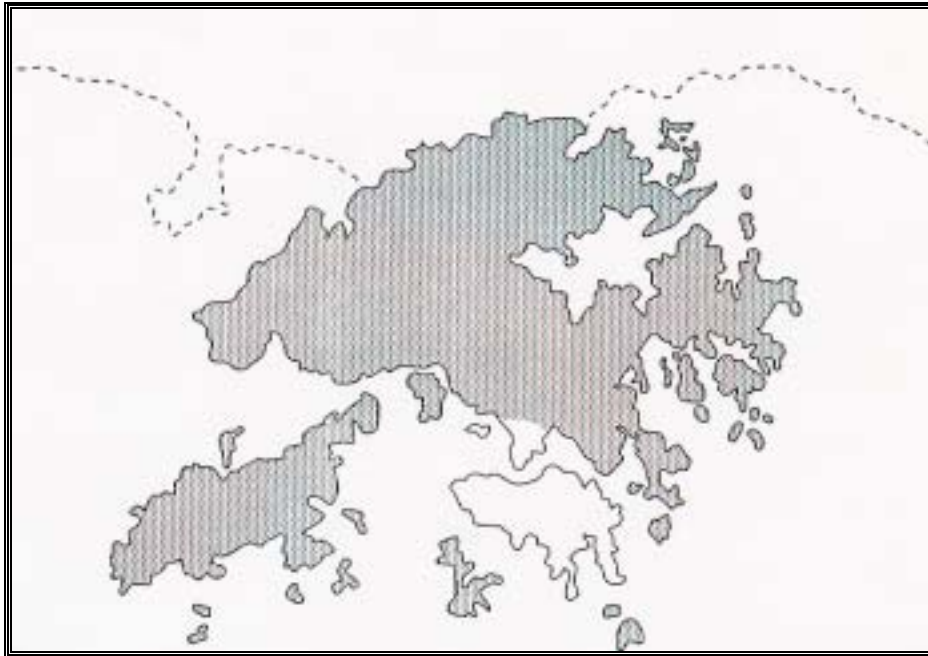


14. 下圖為曾設於九龍公園內的香港博物館，它的前身是甚麼？



第八節：租借新界

15. 下圖陰影部分是因哪一宗歷史事件租借予英國的？



- A. 英法聯軍之役
- B. 甲午戰爭
- C. 列強租借港灣

16. 英國在鄉民抵抗英軍接管新界事件平息後，竟悍然驅逐九龍寨城的中國官員，事件中反映了清政府的哪一面？

第九節：新的一頁

17. 討論題：1997年7月1日，中國對香港恢復行使主權。你對此有何期望？

工作紙完