

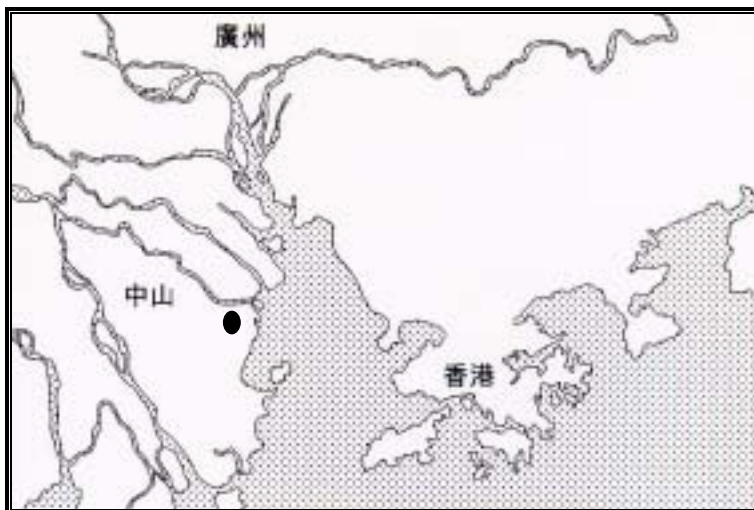
請根據錄像特輯的內容回答下列問題。

- 1911年10月，革命黨人在湖北 _____ 起義，成功推翻滿清二百多年的統治，亦結束了中國二千多年的君主帝制，史稱「 _____ 」。
- 清末，中國備受列強的侵逼，喪權辱國，民生日困，有識之士紛紛尋求救國之道。當時主流，維新和革命兩派。試填寫下表：

	維新派	革命派
主張	① 倡導維新，變法圖強	①
	② 促行君主立憲制	②
領導人物		

- 下圖劃有●符號的地點是：


- A. 九龍村 B. 金田村 C. 翠亨村



- 承上題，該處與孫中山有何關係？

5. 下圖為孫中山在香港接受教育的第一所中學。圖中所見，是該校改建前位於香港東邊街入口的素描。請在圖中外牆的門牌處，填寫原有的校名。

提示：它原是由聖公會創辦的英語寄宿學校，學校後來遷往九龍，香港政府後來在原址改建為羅富國師範學院。



6. 孫中山就讀香港西醫學院期間，常與三位志同道合的朋友在上環歌賦街「楊耀記」聚談，議論國是，常談到反清革命，時人戲稱為「四大寇」。下圖是他們攝於 1888 年的照片。請在人物旁邊的空格內填寫各人的名字。




7. 1894 年，中日甲午戰爭爆發，孫中山深受時局所感染，在檀香山成立興中會，推動革命運動。他在誓詞中標示了成立興中會的宗旨。試在下圖預留的橫線上填寫有關內容。



8. 孫中山在檀香山建立興中會後，亦在香港設立支部，門面以「乾亨行」掩飾，當時會址位於：

- A. 士丹頓街
- B. 荷里活道
- C. 威靈頓街

9. 下圖做畫自紅樓外的三棵棕櫚樹，有「三民主義」茁壯成長的象徵意義，傳聞是由一名革命領袖所植種。該名革命領袖是：



10. 下圖是做畫自屯門中山紀念公園內的「孫逸仙博士像」。試在人像下的虛線方格內填寫刻有孫中山所留墨寶的文字。



11. 孫中山為推動革命事業，在香港籌辦報刊。報刊在 1900 年 1 月創刊。下圖是做照該份報刊版頭而繪畫的意象圖，試在空格內填寫該報刊的名稱。

報日 "China"

每份銀六分
每月銀一元六角
每季銀四元五角
每年銀十五元

每日發行
每逢禮拜日
及中國節日
均照常出版

名譽編輯 孫中山
總編輯 陳天華
經理 謝世輝
印刷 德輔道中

第 1262 號 星期一 791. M. H. C. H. 1904, No. 62 & 64, Hollywood Road, Hongkong.


號式零百式仔壹第紙聞新 壹拜禮 日壹廿月正年辰甲

油肝魚白乳男藥大建威

WEN'S FISH LIVER OIL

WEN'S PILLS

12. 清末，國內外均有兩派不同政見的人士，就著政局與政見展開論戰。下列的「兩筆交戰圖」喻示了這個現象。試在筆旁的空格內填寫兩派的名稱。



13. 孫中山所籌辦的報社除了大力宣傳革命思想外，更在哪一方面支持革命運動？

14. 1905 年，孫中山倡議聯合 _____、 _____、

_____ 和其他革命團體，組成「同盟會」。

15. 同盟會的綱領與「三民主義」一脈相承，有很多共通的地方。試在下表以聯線的方式，串起同類的學說。

驅除韃虜	民族主義
恢復中華	民權主義
創立民國	民生主義
平均地權	

16. 革命黨人士在堅道、普慶坊、卜公花園附近設置招待所的作用是：
(答案不限一項)

- A. 收藏軍火，備起義之用
- B. 供革命義士藏身之用
- C. 作為收集募捐金錢的用址
- D. 作為革命事業博物館，擺放起事紀錄。

工作紙完