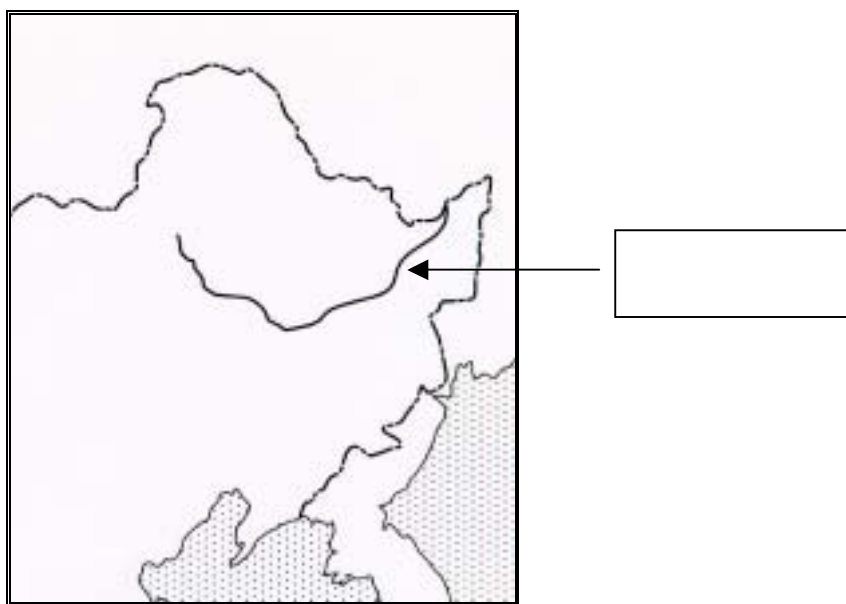


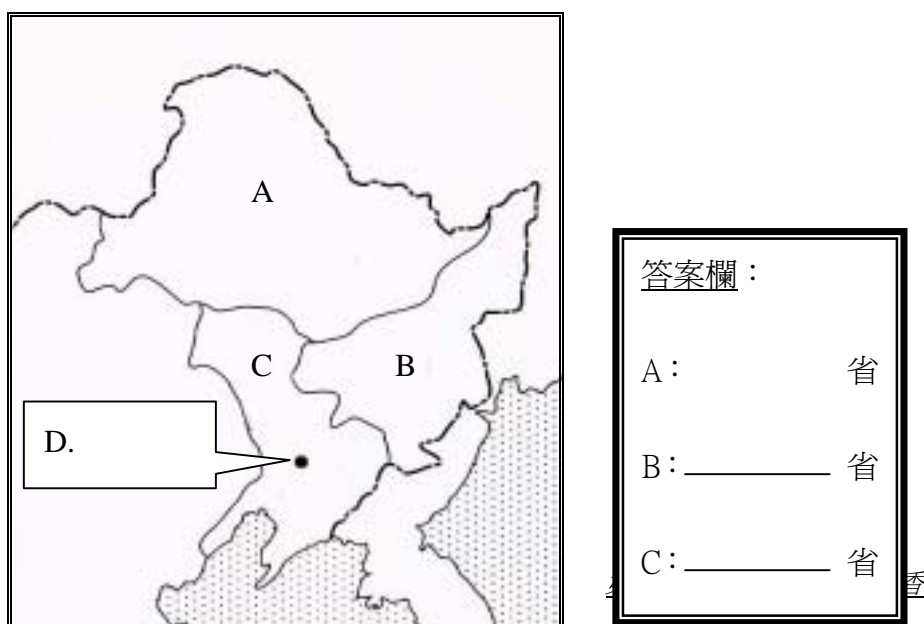
請根據錄像特輯的內容回答下列問題。

1. 1941 年，香港淪陷時，正值哪一個節日？

2. 圖中箭咀所指之處是中國東北的一條著名河流，在節目中曾播出一首以它為名的樂曲。試把它的名稱填寫於方格內。



3. 下圖顯示了中國東北三省的區域，劃有●符號之處是其中一省的省會，亦是「九一八事件」的發生地點。試填寫三省的名稱於右方的答案欄內，並在圖內的方格填寫●符號之處的名稱。



4. 「七七事變」後，日本大舉侵華，中國多個大城市相繼淪陷。情況是：

- A. 東北地區首先淪陷，繼而是南方及長江中游
- B. 華東首先淪陷，繼而是華南，最後是東北地區
- C. 華南首先淪陷，繼而是長江中游，最後是東北地區

5. 在「九一八事件」爆發後，居港華人支援內地的抗日活動不絕如縷，部分學校施行愛國教育。當時曾推行愛國教育的是哪一類學校？

6. 廣州失陷後，大批難民湧到香港，為香港帶來不少社會問題。這包括了：

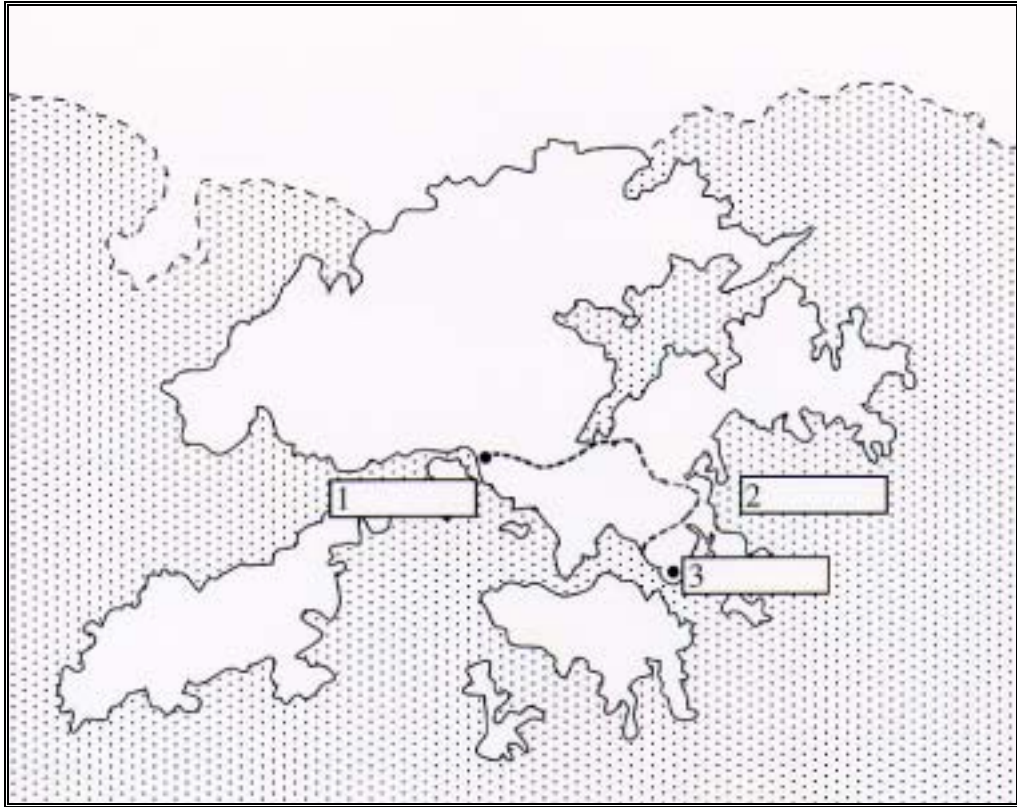
- ① 治安問題
- ② 醫療問題
- ③ 教育問題
- ④ 居住問題

- A. ①②
- B. ③④
- C. ①②④
- D. ①②③④

7. 日本展開對香港的進攻，香港守軍面對的情況是：

- A. 敵強我弱
- B. 勢均力敵
- C. 應付裕如

8. 下圖的虛線是著名的「醉酒灣防線」，1 為其起點，2 為其西邊防線對外的海面；3 則為九龍東部的一座山丘，面對香港島的筲箕灣，具有戰略的作用。試把各點的名稱填寫於方格內。



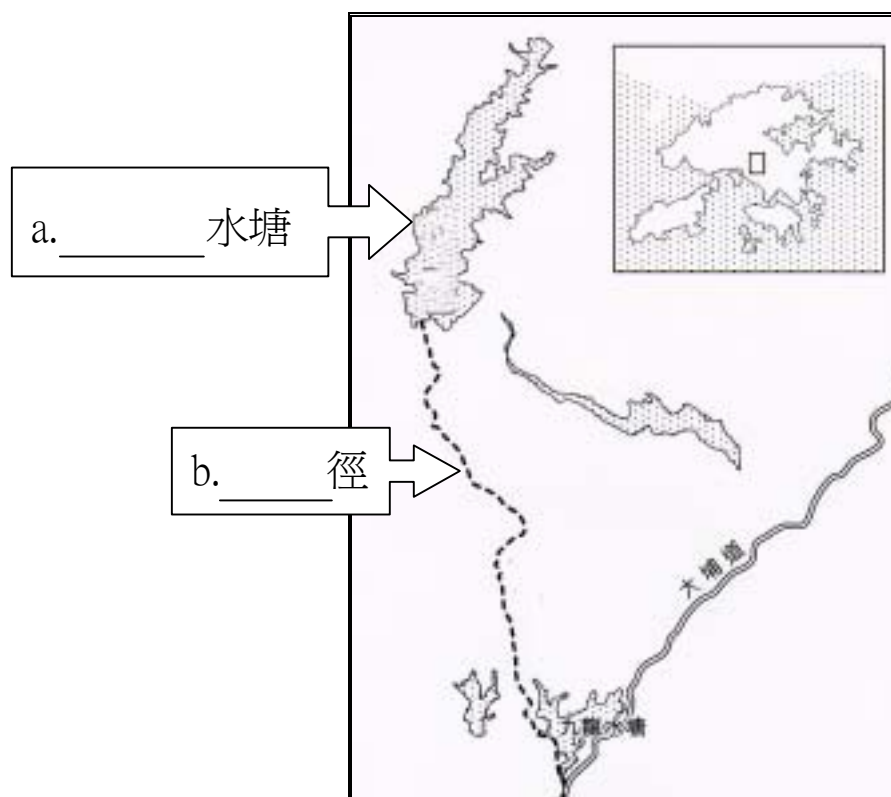
9. 碉堡陣的其中一個入口刻有一間酒店名稱的字樣，那其實是指碉堡陣內的：

10. 這個碉堡陣後來被日軍攻陷，該日軍部隊的名稱是：

11. 軍事學專家分析碉堡陣的防禦力量，下表內容為其情況。試在空格內填寫適當的答案。

守軍數量	估計/結果 可抵禦的時間
一連 (約 120 人)	
一排 (約 30 人)	

12. 下圖箭號所指的水塘及要道是防衛九龍半島的戰略要點。試在方格內填寫該兩處的名稱。



13. 透過戰地記者陳迹的表白，他談到最不忍看見的是：

- A. 日本人殘殺市民的行爲
- B. 英勇抗戰的士兵當天橫屍街上
- C. 整個香港變成一個死城

14. 日軍終於攻陷香港島，在任港督宣布投降，並簽下降書。試根據指引填寫答案於下。

在任港督名稱

簽訂降書地點

20. 試回答與下圖相關的問題。




1. 它是在港日治政府發行的一種 _____ 券。
 2. 它曾因為日治政府 _____，導致價值大跌，香港民生困苦。
21. 日軍侵略香港時，曾使用下列三個地點作為戰俘集中營。試填寫其餘兩個地點的名稱。
- ① _____ 兵營 ② 亞皆老街集中營
- ③ _____ 集中營
22. 日本佔領香港期間，有兩個組織在香港進行抗日活動，營救對象各自不同。試填寫下表的内容。

組織名稱	① _____	東江縱隊
營救對象	盟軍、英籍軍民及戰俘	② _____

23. 據東江縱隊的男隊員說，他們能夠戰勝敵人，主要的力量是來自：

24. 試把圖中建築物的名稱填寫於箭咀方格內。



25. 除了上圖提及的紀念碑外，還有哪一項事物是紀念香港抗戰歷史和為香港抗戰捐軀的烈士？

26. 三位游擊隊員和戰地記者在接受訪問時抒發感受，以下為其中三項要點。試完成各點。

1. _____，就會受到別國欺侮、侵略。

2. _____是來自不易的。

3. 戰亂不是最可怕，最可怕的是：

※工作紙完※